

TRƯỜNG TIỂU HỌC

CHÀO MỪNG QUÝ THẦY CÔ VỀ DỰ GIỜ THĂM LỚP

Môn Tự nhiên và Xã hội lớp 3

**Bài 29: MẶT TRỜI, TRÁI ĐẤT, MẶT
TRĂNG (T1)**

Giáo viên:.....

Lớp: 3





Thứ.....ngày.....tháng.....năm.....

TỰ NHIÊN VÀ XÃ HỘI



Bài 29: MẶT TRỜI, TRÁI ĐẤT, MẶT TRĂNG (T1)

- 1** Em thường nhìn thấy Mặt Trời, Mặt Trăng khi nào?
Nói những điều em biết về Mặt trời, Mặt Trăng

Quan sát hình 1:

* Chỉ vị trí của Mặt Trời và Trái Đất

* Hệ Mặt Trời có mấy hành tinh?

- Từ Mặt Trời ra xa dần Trái Đất là hành tinh thứ mấy?



Sơ đồ các hành tinh trong hệ Mặt Trời



Thứ.....ngày.....tháng.....năm.....

TỰ NHIÊN VÀ XÃ HỘI



Bài 29: MẶT TRỜI, TRÁI ĐẤT, MẶT TRĂNG (T1)

1 Em thường nhìn thấy Mặt Trời, Mặt Trăng khi nào?
Nói những điều em biết về Mặt trời, Mặt Trăng

* **Hệ Mặt Trời có mấy hành tinh?**

* **Hệ Mặt Trời có 8 hành tinh:**

Thủy tinh, Kim tinh, Trái Đất,
Hỏa tinh, Mộc tinh, Thổ tinh,
Thiên vương tinh, Hải vương tinh

* **Từ Mặt Trời ra xa dần Trái Đất
là hành tinh thứ mấy?**

* **Từ Mặt Trời ra xa dần Trái Đất
là hành tinh thứ ba?**



Sơ đồ các hành tinh trong hệ Mặt Trời

Thứ.....ngày.....tháng.....năm.....



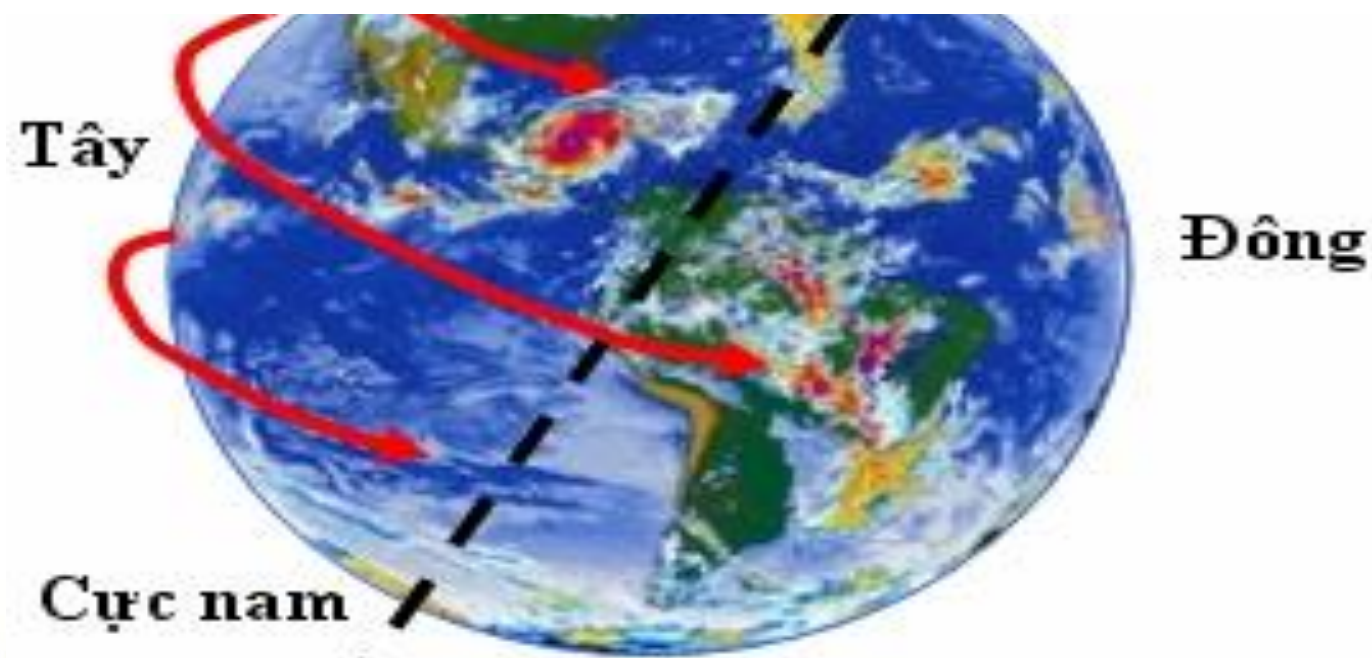
TỰ NHIÊN VÀ XÃ HỘI

Bài 29: MẶT TRỜI, TRÁI ĐẤT, MẶT TRĂNG (T1)

2 Quan sát hình 2 và hình 3

**Chỉ, nói chiều chuyển động của Trái Đất quanh mình nó và quanh Mặt Trời.
Nếu nhìn từ cực Bắc xuống. Trái Đất quay cùng chiều hay ngược chiều kim đồng hồ?**

Trái Đất chuyển động quanh Mặt Trời theo chiều nào?



Sơ đồ Trái Đất chuyển động quanh mình nó



Sơ đồ Trái Đất chuyển động quanh mình nó và quanh Mặt Trời





Thứ.....ngày.....tháng.....năm.....

TỰ NHIÊN VÀ XÃ HỘI

Bài 29: MẶT TRỜI, TRÁI ĐẤT, MẶT TRĂNG (T1)

Trái Đất chuyển động quanh mình nó theo chiều nào?

Trái Đất chuyển động quanh mình nó theo chiều Từ Tây sang Đông

Nếu nhìn từ cực Bắc xuống. Trái Đất quay cùng chiều hay ngược chiều kim đồng hồ?

Nếu nhìn từ cực Bắc xuống. Trái Đất quay ngược chiều kim đồng hồ.

Trái Đất chuyển động quanh Mặt Trời theo chiều nào?

Trái Đất chuyển động quanh Mặt Trời cũng theo hướng Từ Tây sang Đông

Ngoài chuyển động quanh mình nó. Trái Đất còn chuyển động quanh Mặt Trời. Trái Đất chuyển động quanh mình nó theo hướng từ tây sang đông (nếu nhìn từ cực Bắc xuống, Trái Đất chuyển động theo hướng ngược kim đồng hồ). Trái Đất chuyển động quanh Mặt Trời cũng theo hướng từ tây sang đông.



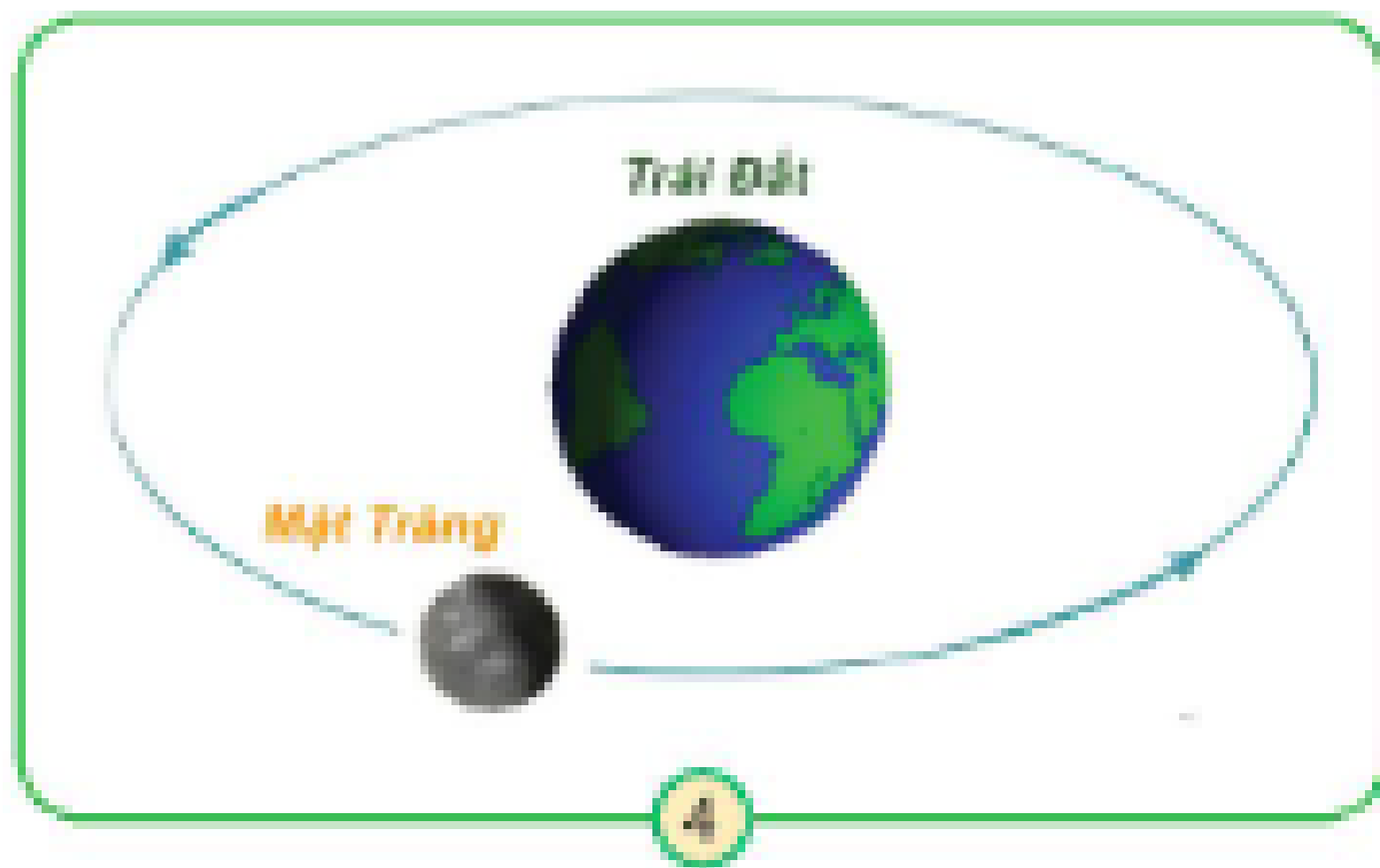
Thứ.....ngày.....tháng.....năm.....



TỰ NHIÊN VÀ XÃ HỘI

Bài 29: MẶT TRỜI, TRÁI ĐẤT, MẶT TRĂNG (T1)

Chỉ và nói chiều chuyển động của Mặt Trăng quanh Trái Đất trên hình 4?



Mặt Trăng quay quanh Trái Đất theo chiều từ tây sang đông. Nếu nhìn từ cực Bắc xuống, Mặt Trăng quay quanh Trái Đất ngược chiều kim đồng hồ.

Mặt Trăng quay quanh Trái Đất như thế nào?

Khi chuyển động quanh Trái Đất, Mặt Trăng luôn hướng một mặt về Trái Đất

Sơ đồ Mặt Trăng chuyển động quanh Trái Đất



Thứ.....ngày.....tháng.....năm.....

TỰ NHIÊN VÀ XÃ HỘI



+ Vì sao Trái Đất được gọi là hành tinh trong hệ Mặt Trời?

Do Trái Đất chuyển động quanh Mặt Trời nên gọi là hành tinh(hành = chuyển động; tinh=sao).

+ Vì sao Mặt Trăng được gọi là vệ tinh của Trái Đất ?

Mặt Trăng chuyển động xung quanh Trái Đất nên gọi là vệ tinh của Trái Đất.

Trái Đất là một hành tinh trong hệ Mặt Trời. Từ Mặt Trời ra xa dần, Trái Đất là hành tinh thứ ba. Trái Đất chuyển động quanh mình nó, đồng thời chuyển động quanh Mặt Trời. Mặt Trăng chuyển động quanh Trái Đất, Mặt Trăng là vệ tinh của Trái Đất.



Thứ.....ngày.....tháng.....năm.....



TỰ NHIÊN VÀ XÃ HỘI


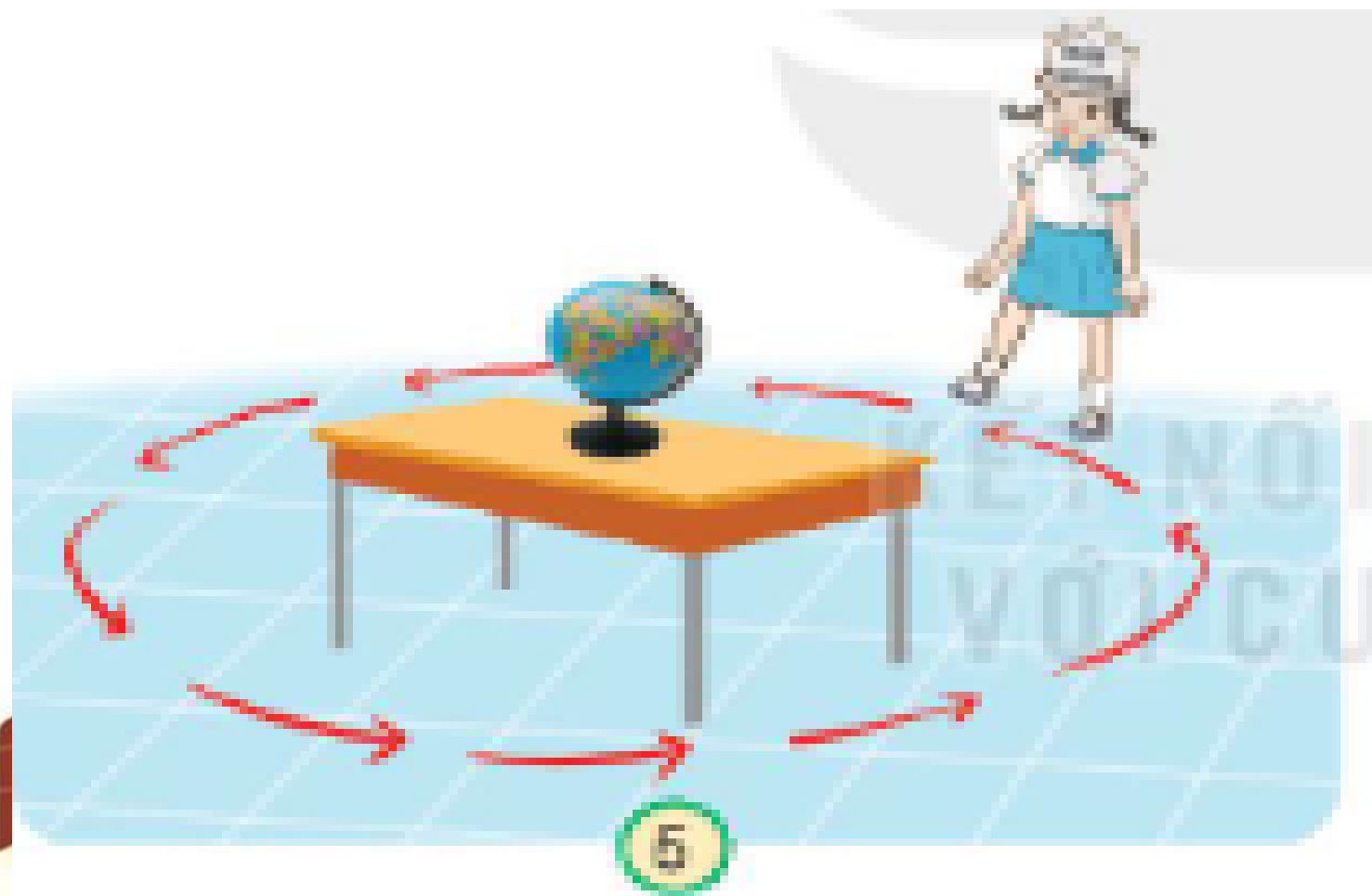
Bài 29: MẶT TRỜI, TRÁI ĐẤT, MẶT TRĂNG (T1)



Thực hành theo gợi ý trong hình 5 và hình 6:

Mặt trăng quay quanh Trái Đất

Trái Đất quay quanh Mặt Trời




Thứ.....ngày.....tháng.....năm.....



TỰ NHIÊN VÀ XÃ HỘI

Bài 29: MẶT TRỜI, TRÁI ĐẤT, MẶT TRĂNG (T1)

A smiling sun with a yellow face and orange rays, positioned on the left side of the page, partially enclosed by a blue wavy border.

Trái Đất là một hành tinh trong hệ Mặt Trời. Từ Mặt Trời ra xa dần, Trái Đất là hành tinh thứ ba, Trái đất chuyển động quanh mình nó , đồng thời chuyển động quanh Mặt Trời. Mặt trăng chuyển động quanh Trái Đất. Mặt Trăng là vệ tinh của Trái Đất.

Trái Đất chuyển động quanh mình nó và quanh Mặt Trời theo hướng từ Tây sang Đông, nếu nhìn từ cực Bắc xuống trái đất quay ngược chiều kim đồng hồ.

Thứ.....ngày.....tháng.....năm.....

TỰ NHIÊN VÀ XÃ HỘI



Bài 29: MẶT TRỜI, TRÁI ĐẤT, MẶT TRĂNG (T1)

